



Ce document a été mis en ligne par l'organisme [FormaV®](#)

Toute reproduction, représentation ou diffusion, même partielle, sans autorisation préalable, est strictement interdite.

Pour en savoir plus sur nos formations disponibles, veuillez visiter :

www.formav.co/explorer

CAP

PRÉVENTION, SANTÉ, ENVIRONNEMENT

2021

CORRIGÉ

Durée : 1 heure

Coefficient : 1

	Barème
Partie 1	12 points
Partie 2	8 points
Total	20 points

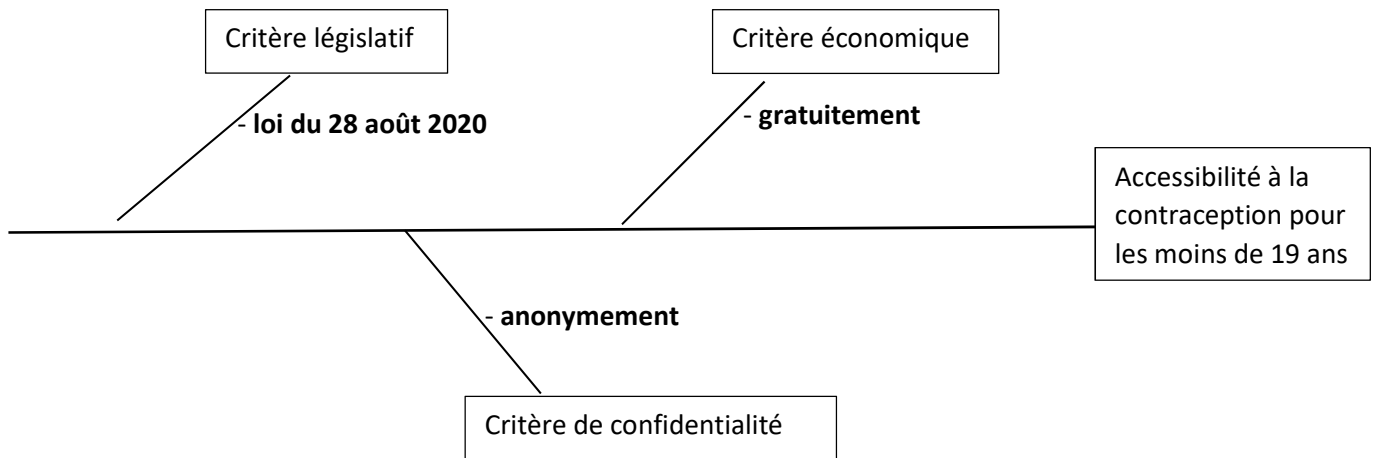
Ce corrigé comporte 6 pages numérotées de 1/6 à 6/6.

2021	CAP Toutes les spécialités			Corrigé
2106-CAP PSE-2C (id21E)	Prévention, santé, environnement	Coef. : 1	Durée : 1 h 00	1/6

PARTIE 1 sur 12 points

1-1 1.1. Classer dans le diagramme causes-effet ci-dessous, les facteurs soulignés de la situation 1 qui favorisent l'accès à la contraception chez les moins de 19 ans :

(0,5 pt x 3 = 1,5 pt)



1.2 1.2. Définir la contraception **(1 pt)**

Cela correspond à l'ensemble des moyens mis en œuvre afin d'éviter une grossesse non désirée.

1.31.3. « L'IVG n'est pas un moyen de contraception ». Justifier cette affirmation **(1 pt)**

La contraception agit avant qu'une grossesse ne débute alors que l'IVG intervient une fois que la grossesse a démarré.

1.4 1.4. Indiquer, à partir du document 1, le mode de contraception adapté à la situation de Noémie en cochant la bonne réponse **(0,5 pt)**

- ☐ Stérilisation féminine
- ☐ Implant
- ☐ Pilule
- ☒ **DIU (Dispositif Intra Utérin) au cuivre**

1.5 1.5. Justifier votre réponse par deux arguments **(1pt x 2 = 2 pts)**

Sans hormones

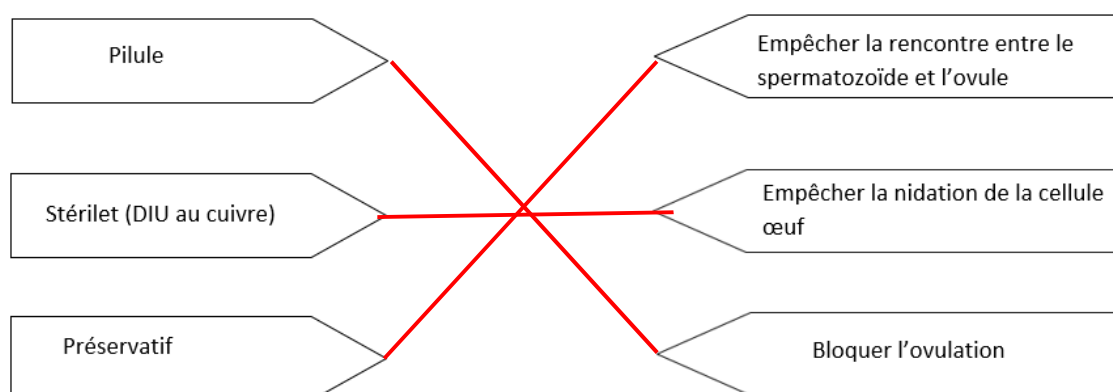
Durée de 4 ans à 10 ans

Réversible

Pas de risque d'oubli

2021	CAP Toutes les spécialités			Corrigé
2106-CAP PSE-2C (id21E)	Prévention, santé, environnement	Coef. : 1	Durée : 1 h 00	2/6

1.6 Associer, en les reliant, chacun des trois contraceptifs proposés à son mode d'action :
(0,25 pt x 3 = 0,75 pt)



1.7 1.7. Indiquer, à partir du document 2 et de vos connaissances, deux fonctions du DICRIM
(0,5 pt x 2 = 1 pt)

- informer sur les risques majeurs locaux ;
- informer sur la conduite à tenir.

1.8 1.8. Relever dans le document 2, trois risques majeurs naturels et deux risques majeurs technologiques de la commune de Palaiseau en les classant dans le tableau ci-dessous (0,25 pt x 5 = 1,25 pt)



Types de risques majeurs	Risques majeurs de Palaiseau
NATURELS	Inondation Mouvement de terrain Risque météorologique
TECHNOLOGIQUES	Transport de matières dangereuses par voies routières et ferrées Transport de matières dangereuses par gazoduc







1.9 1.9. Définir un risque majeur en cochant ses principales caractéristiques (0,25 pt x 4 = 1 pt, - 0,25 pt par mauvaise réponse)



- ☒ Il correspond à la confrontation d'un aléa et d'enjeux
- ☐ Il correspond à un aléa
- ☐ Il fait peu de victimes
- ☒ Il fait de nombreuses victimes
- ☒ Il est rare
- ☐ Il est fréquent
- ☒ Il nécessite la mise en place de secours exceptionnels

2021	CAP Toutes les spécialités			Corrigé
2106-CAP PSE-2C (id21E)	Prévention, santé, environnement	Coef. : 1	Durée : 1 h 00	3/6

1.10 1.10. Identifier le signal d'alerte aux populations en entourant la bonne réponse (0,5 pt)

A  
1 min 41

B   1 min 41  Silence (5 sec.)  1 min 41  Silence (5 sec.)  1 min 41

C  
30 secondes

1.11 1.11. Citer, à l'aide de vos connaissances, trois conduites à tenir en cas d'alerte à la population (0,5 pt x 3 = 1,5 pt)

- rester calme ;
- se calfeutrer ;
- fermer portes et fenêtres ;
- se confiner ;
- ne pas fumer ;
- ne pas téléphoner ;
- ne pas prendre sa voiture...

PARTIE 2 sur 8 points

Partie 2.1 sur 5 points

2.1.1. Identifier à partir du document 3, deux risques auxquels Noémie est confrontée à la crèche et indiquer pour chacun un exemple de situation de travail qui les illustre (1pt x 2 = 2 pts)

Risques auxquels Noémie est confrontée à la crèche	Exemples de situation de travail liée à ce risque
N°5 - Risques liés à la charge physique de travail	Port des enfants, déplacement du matériel d'animation
N°7 - Risques liés aux produits, aux émissions et aux déchets	Nettoyage des locaux avec des produits d'entretien
N° 7 - risques liés aux agents biologiques	Changement de couches souillées
N° 11 - Risques et nuisances liés au bruit	Volume sonore atteint lors d'activités de jeux
N° 17 - Risques psychosociaux	Conflit avec les parents, les collègues, la direction

2021	CAP Toutes les spécialités			Corrigé
2106-CAP PSE-2C (id21E)	Prévention, santé, environnement	Coef. : 1	Durée : 1 h 00	4/6

2.1.2. Analyser la situation en complétant le schéma du processus d'apparition du dommage (PAD) à partir des éléments soulignés de la situation 2 et de vos connaissances (**5 x 0,25 = 1,25 pts**)

Opérateur : **Noémie**

Danger : **Poids varie de 5 à 15 kg**

Situation dangereuse : **Elle porte des enfants**

Événement dangereux : **Tous les jours**

Dommage : **Lumbago**

2.1.3. Proposer, à partir de vos connaissances et à l'aide des illustrations du document 4, trois mesures de prévention des problèmes de dos dans les métiers de la petite enfance (**0,75 x 3 = 1,5 pts**)

- **faire une formation gestes et postures ;**
- **adopter les bonnes postures lors du port de charges (plier les jambes, garder le dos droit...) ;**
- **porter le moins possible les enfants ;**
- **installer des équipements spécifiques (escaliers pour accéder au plan de change, sièges confortables pour être au niveau des enfants...).**

2.1.4. Nommer un acteur de prévention qui pourrait proposer des équipements adaptés pouvant limiter les TMS (troubles musculo-squelettiques) (**0,25 pt**)

Ergonome, médecin de travail, salarié compétent, CSE, SST, inspecteur du travail.

Partie 2.2 sur 3 points

2.2.1. Parmi les 4 propositions ci-dessous, identifier en cochant la conduite que Noémie doit tenir dans cette situation (**1 pt**)

- ☐ Examiner - Secourir - Alerter - Protéger
- ☒ **Protéger - Examiner - Secourir - Alerter**
- ☐ Alerter - Secourir - Protéger - Examiner
- ☐ Secourir - Protéger - Examiner – Alerter

2.2.2. Citer le numéro à appeler dans le cas d'une situation d'accident (**0,5 pt**).

Plusieurs réponses possibles.

N° des secours :15 / 18 / 112

2021	CAP Toutes les spécialités			Corrigé
2106-CAP PSE-2C (id21E)	Prévention, santé, environnement	Coef. : 1	Durée : 1 h 00	5/6

2.2.3. Énoncer 2 éléments que doit contenir le message d'alerte **(0,25 x 2 = 0,5pt)**.

Lieu / adresse, nombre de victime, état de la victime, Cause accident, SST sur place ou pas, geste de secours effectué.

2.2.4 Indiquer le geste de secours que doit effectuer Noémie **(0,5 pt)**

PLS ou Mise sur le côté

2.2.5 Proposer deux actions complémentaires que doit effectuer Noémie **(2 x 0,25 = 0,5 pt)**

- **couvrir la victime ;**
- **surveiller l'état de la victime ;**
- **parler à la victime / rassurer la victime.**

2021	CAP Toutes les spécialités			Corrigé
2106-CAP PSE-2C (id21E)	Prévention, santé, environnement	Coef. : 1	Durée : 1 h 00	6/6

Copyright © 2026 FormaV. Tous droits réservés.

Ce document a été élaboré par FormaV® avec le plus grand soin afin d'accompagner chaque apprenant vers la réussite de ses examens. Son contenu (textes, graphiques, méthodologies, tableaux, exercices, concepts, mises en forme) constitue une œuvre protégée par le droit d'auteur.

Toute copie, partage, reproduction, diffusion ou mise à disposition, même partielle, gratuite ou payante, est strictement interdite sans accord préalable et écrit de FormaV®, conformément aux articles L.111-1 et suivants du Code de la propriété intellectuelle. Dans une logique anti-plagiat, FormaV® se réserve le droit de vérifier toute utilisation illicite, y compris sur les plateformes en ligne ou sites tiers.

En utilisant ce document, vous vous engagez à respecter ces règles et à préserver l'intégrité du travail fourni. La consultation de ce document est strictement personnelle.

Merci de respecter le travail accompli afin de permettre la création continue de ressources pédagogiques fiables et accessibles.